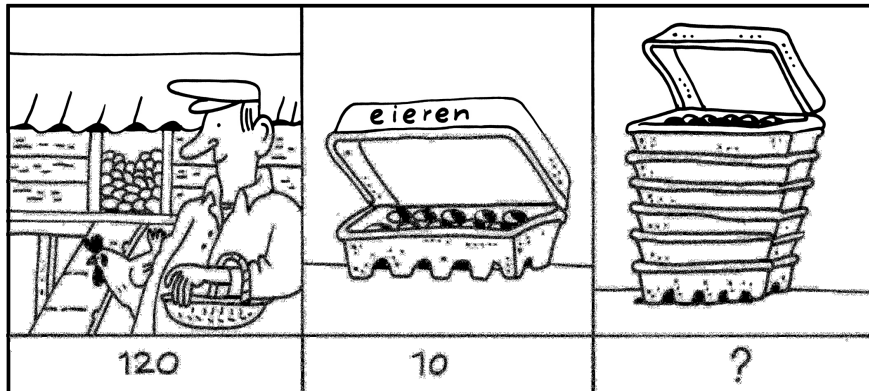



Kwint 5 werkschrift 2

Som 1




De kippen van boer Hinze hebben 120 eieren gelegd. In een eierdoos passen 10 eieren.
 Hoeveel eierdozen heeft boer Hinze nodig? ... eierdozen.
 Zo heb ik gerekend:

Som 2




Vader heeft 18 pannenkoeken gebakken. Er eten 4 mensen pannenkoeken.
 Hoeveel pannenkoeken kan ieder eten?
 Ieder krijgt ... pannenkoeken. Er blijven ... pannenkoeken over.

Som 3



Jennifer heeft 13 snoepjes. Ze wil ze verdelen over 2 vrienden.
 Hoeveel snoepjes krijgt ieder?
 Ieder krijgt ... snoepjes. Er blijven ... snoepjes over.

Som 4




Ik ben aan het sparen voor een computer van €572.

Ik heb €87. Hoeveel euro moet ik nog sparen?

€...

Som 5

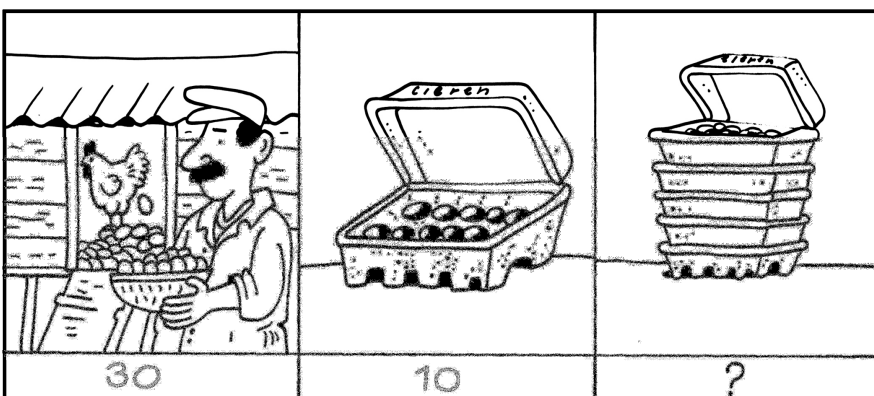


Het kwartetspel heeft 24 kaartjes. We spelen het spel met 4 kinderen.

Hoeveel kaartjes krijgt ieder?

... kaartjes

Som 6




Boer Farouk heeft 30 eieren geraapt. Hij stopt ze in eierdozen waar 10 eieren in kunnen.

Hoeveel eierdozen kan hij vullen?

... eierdozen

Som 7




De kippen van boer Farouk hebben 54 eieren gelegd.

Boer Farouk stopt ze in doosjes van 6.

Hoeveel doosjes kan hij vullen?

... doosjes

Som 8



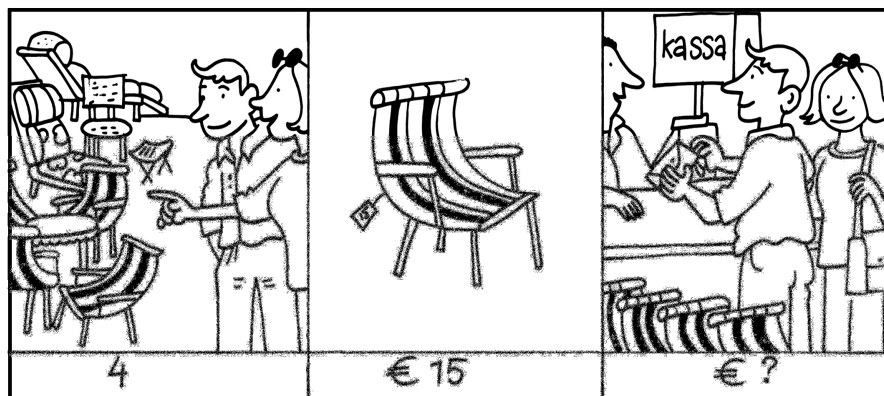
Een boer heeft 72 bloemkolen geoogst.

Hij doet ze steeds met 8 tegelijk in een kist.

Hoeveel kisten kan hij vullen?

... kisten

Som 9



Onze burens kopen 4 nieuwe tuinstoelen.

Per stuk zijn ze €15.

Hoeveel moeten ze betalen?

€...