


## Kwint 5 werkschrift 1

### Som 1a




Opa heeft 12 krentenbollen voor zijn kleinkinderen meegenomen.

Hij heeft 4 kleinkinderen.

Hoeveel krentenbollen krijgt elk kind?

... krentenbollen

### Som 1b



Hij heeft ook 24 snoepjes bij zich om uit te delen.

Hoeveel snoepjes zijn er voor ieder kind?

... snoepjes

### Som 2




Saskia heeft 24 koekjes. Deze wil ze delen met 3 vriendinnen.

Hoeveel koekjes krijgt ieder? Saskia wil zelf ook koekjes!

... : ... = ...

**Som 3**




Mehmet heeft 15 knikkers. Er gaan 5 knikkers in een zakje.

Hoeveel zakjes kan hij vullen met knikkers?

... : ... = ...

**Som 4**




Joris heeft 3 zakjes met 6 knikkers.

Hoeveel knikkers heeft Joris?

... knikkers

**Som 5**



In een zak zitten 6 krentenbollen. Shaima heeft 5 zakken gekocht.

Hoeveel krentenbollen heeft ze gekocht?

... krentenbollen