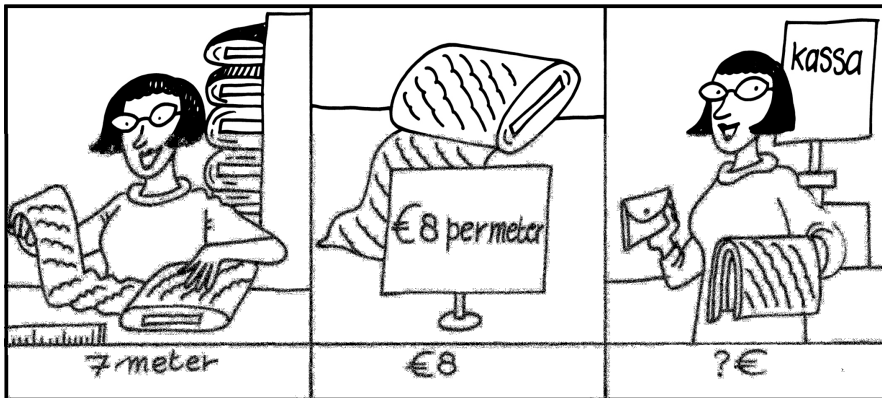


Kwint 4 werkschrift 2

Som 1



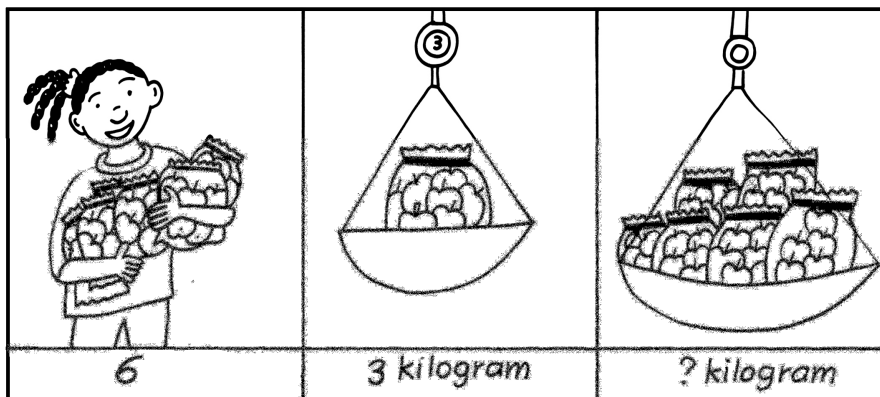
Dineke heeft 7 meter gordijnstof nodig.

De prijs per meter is €8.

Hoeveel kost het samen?

€...

Som 2




Sherly koopt 6 zakken appels. In elke zak zit 3 kilogram.

Hoeveel kilogram appels heeft Sherly gekocht?

... kilogram

Som 3




De bakker verkoopt op een ochtend 37 witte broodjes,

49 bruine bolletjes en 12 krentenbollen.

Hoeveel broodjes heeft hij in totaal verkocht?


... broodjes

Som 4




Mijn tante weegt 78 kilogram. Ze vindt dat ze te zwaar weegt.
 Door minder te eten weegt ze twee maanden later 67 kilogram.
 Hoeveel is mijn tante in twee maanden afgevallen? ... kilogram

Som 5



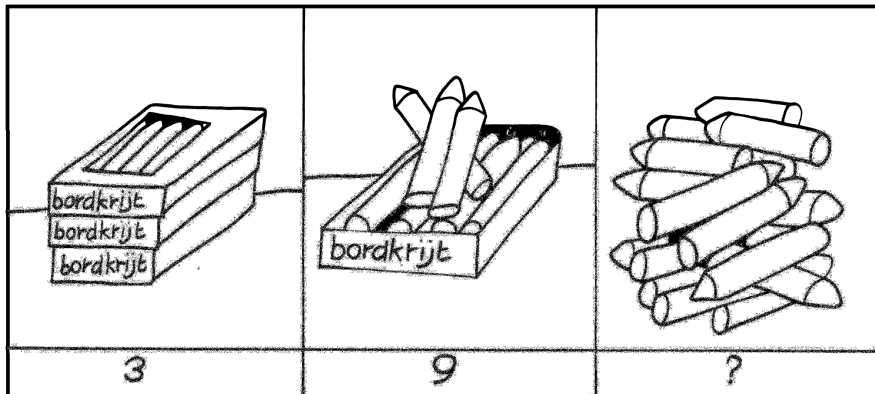
Lineke maakt een kralenketting. In de kralendoos zitten 97 kralen.
 Ze maakt een ketting van 68 kralen.
 Hoeveel kralen heeft ze nog over? ... kralen

Som 6



Vader Kees en dochter Suze gaan samen een boottochtje maken.
 Voor Suze hoeft vader maar €12 te betalen.
 Dat is de helft van de prijs.
 Hoeveel moet vader Kees in totaal betalen? €...

Som 7




In de klas liggen nog 3 doosjes met krijtes.

In elk doosje zitten 9 krijtes.

Hoeveel krijtes zijn dat bij elkaar?

... krijtes

Som 8




Op de kinderboerderij staan 7 kippenhokken.

In elk hok zitten 6 kippen.

Hoeveel kippen zijn er bij de kinderboerderij?

... kippen

Som 9




Ik heb €93 in mijn portemonnee. Ik koop een broek van €57

en een trui van €34. Hoeveel houdt ik over?


€...

Som 10




Op vrijdag lees ik 48 bladzijden en op zaterdag 33.
 Het boek heeft 98 bladzijden. Hoeveel bladzijden moet ik
 op zondag lezen om het boek uit te hebben? ... bladzijden

Som 11



Oma heeft €10. Ze heeft twee kleinkinderen.
 Hoeveel euro krijgt elk kleinkind? €...

Som 12



Boer Farouk heeft 30 eieren geraapt.
 Hij stopt ze in eierdozen van 10.
 Hoeveel eierdozen kan hij vullen? ... eierdozen

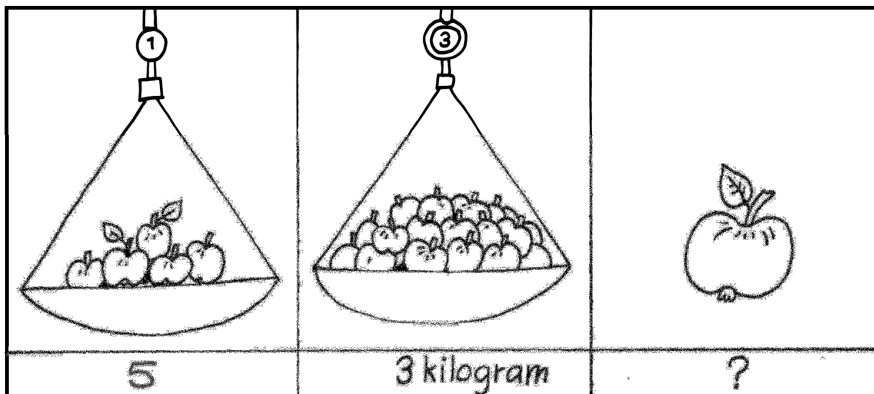
Som 13



Een grote zak friet kost bij de snackbar €2. Ik koop er 6.
Hoeveel moet ik betalen?

€...


Som 14



In een kilogram appels zitten ongeveer 5 appels.
Ik koop 3 kilogram.
Hoeveel appels heb ik?

... appels


Som 15



Mijn vader is bijna jarig en samen met mijn zus ga ik een
cadeau kopen. Samen hebben we €71.
Het cadeau dat we willen kopen kost €57.
Hoeveel geld houden we over?

€...

Som 16



In de trein van Rotterdam naar Utrecht zitten 67 mensen.

Bij Gouda stappen er 48 uit en 72 in.

Met hoeveel mensen komt de trein aan in Utrecht? ... mensen