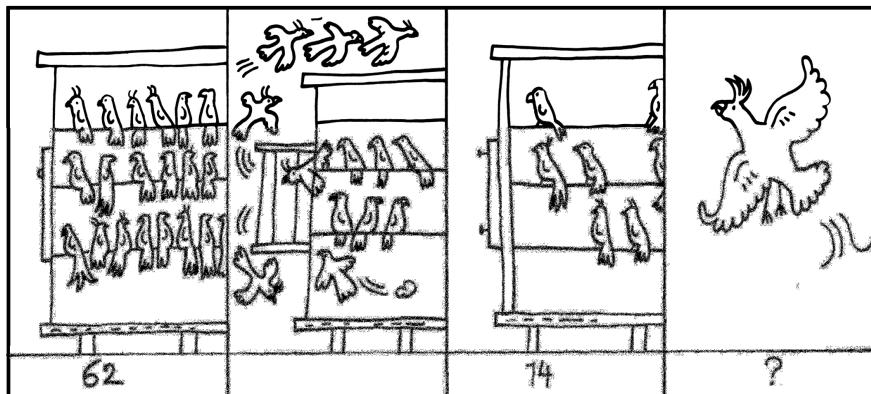


Kwint 4 werkschrift 1

Som 1




Mijn oom had 62 tropische vogels in een grote kooi.
 Tijdens een storm waaide 's nachts een van de deurtjes open.
 De volgende morgen telde mijn oom nog 14 vogels.
 Hoeveel vogels zijn er die nacht weggevlogen? ... vogels

Som 2




An heeft een kat gekregen. In de dierenwinkel koopt An voor
 €16 kattenvoer, voor €21 kattenbakkorrels en voor €56 een kattenbak.
 Hoeveel moet ze betalen? €...

Som 3



Op het meer varen 7 roeiboten. In elke boot zitten 5 kinderen.
 Hoeveel kinderen zijn aan het varen? ... kinderen


Som 4



In een doosje zitten 4 kaarsen. Ik koop 6 doosjes.
Hoeveel kaarsen zijn dat?

... kaarsen

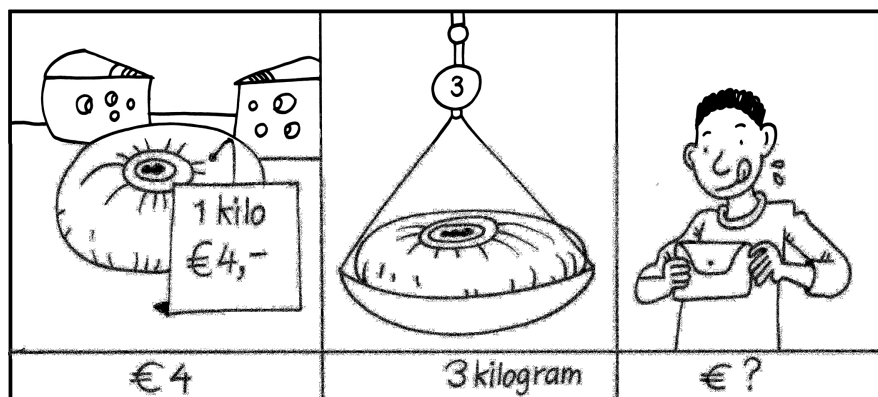
Som 5



In de winkel staan 6 dozen met eieren.
Er zitten 6 eieren in een doos.
Hoeveel eieren zijn er in de winkel?

... eieren

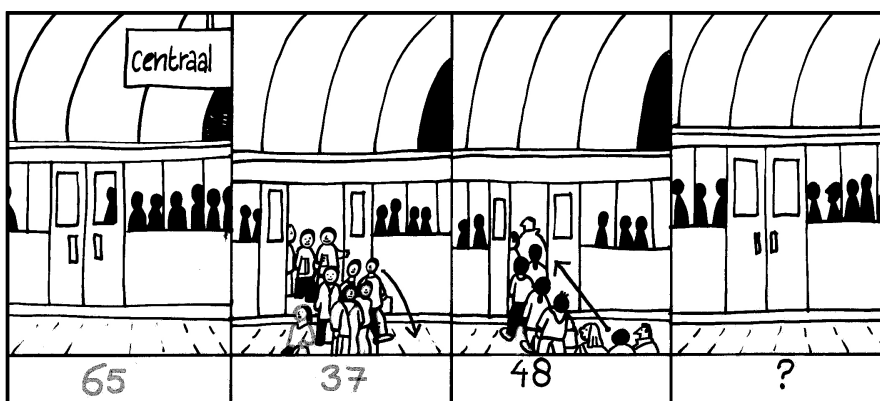
Som 6



Een kilogram kaas kost €4. Ik koop 3 kilogram.
Hoeveel moet ik betalen?

€...


Som 7



In de metro zitten 65 mensen. Bij het volgende station stappen 37 mensen uit en 48 mensen in.

Met hoeveel mensen rijdt de metro verder? ... mensen

Som 8




Een containerschip in de haven van Rotterdam laadt 78 containers in.

Het schip vaart naar Antwerpen en dan naar Frankrijk. In Antwerpen gaan er 59 containers uit en komen er 48 bij.

Met hoeveel containers vaart het schip naar Frankrijk? ... containers


Som 9



De kippen van boer Farouk hebben 's morgens 36 eieren gelegd en 's middags 27.

Hoeveel eieren hebben ze in totaal gelegd? ... eieren

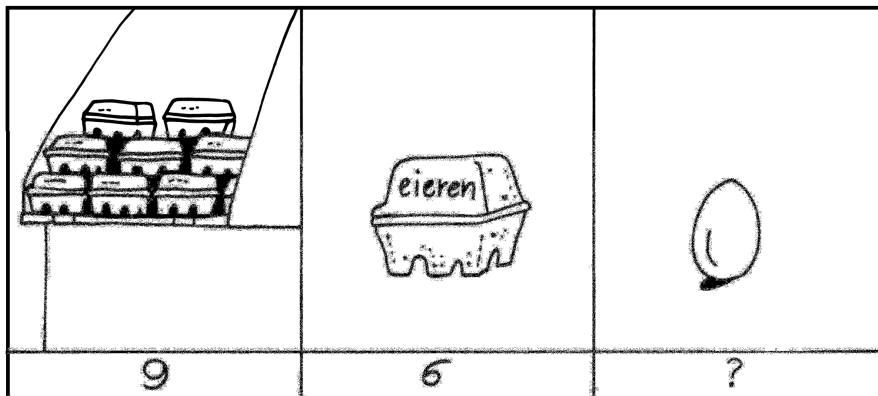
Som 10



Ik ben een boek aan het lezen van 98 bladzijden.
 's Morgens lees ik 16 bladzijden en 's middags nog 9.
 Hoeveel bladzijden moet ik nog lezen?

... bladzijden

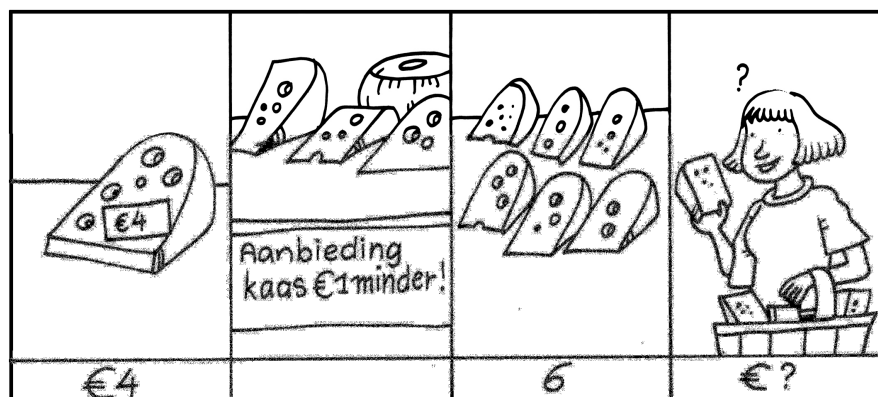
Som 11



In de winkel staan 9 doosjes met eieren.
 Er zitten 6 eieren in een doos.
 Hoeveel eieren zijn er in de winkel?

... eieren


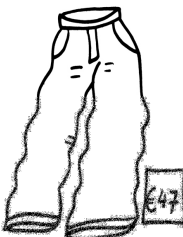


Som 12



Een stuk kaas kost €4.
 Alleen deze week geldt de aanbieding: €1 goedkoper!
 Hoeveel moet ik betalen voor 6 stukken kaas?




€...

Som 13

			
€36	€47	€6	?

Mijn moeder heeft voor mij een trui, een broek en een paar sokken gekocht. De trui kostte €36, de broek €47 en de sokken €6.
Hoeveel moest mijn moeder betalen? €...

Som 14

		
92	78	?

Mijn opa is 92 en mijn oma is 78. Hoeveel jaar verschillen zij?
... jaar