




### Kwint 3 werkschrift 2

#### Som 1




		Hoeveel kaarsjes ? 
5	8	?

Op elke taart moeten 5 kaarsjes komen. Er zijn 8 taarten.

Hoeveel kaarsjes heb ik nodig?

...kaarsjes x ... taarten = ... kaarsjes

#### Som 2


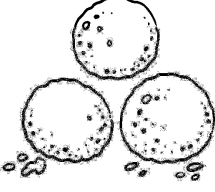

		Hoeveel eieren heb ik nodig? 
3	4	?

Om een taart te bakken heb je 3 eieren nodig. Moeder wil 4 taarten bakken.

Hoeveel eieren heeft zij nodig?

...eieren x ...taarten = ... eieren

#### Som 3

		
35 cent	3	? cent

Een bolletje ijs kost 35 cent.

Wat kosten drie bolletjes ijs?

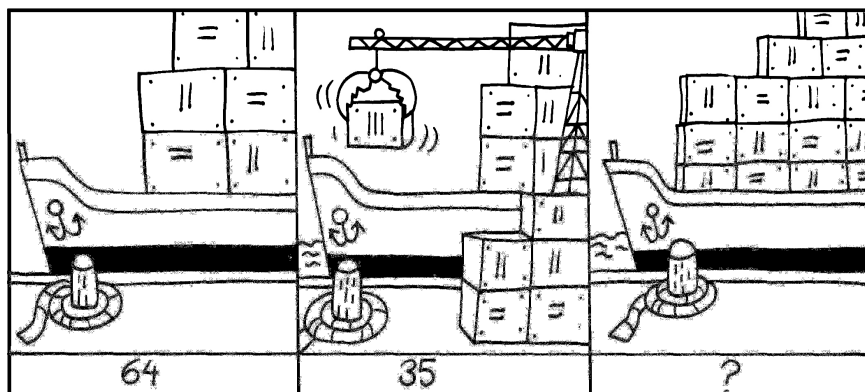
... cent x ... bolletjes = ... cent

Som 4




Mijn vader heeft een doos met 45 schroeven. Hij heeft er 68 nodig.  
Hoeveel heeft hij er te weinig? ... schroeven

Som 5



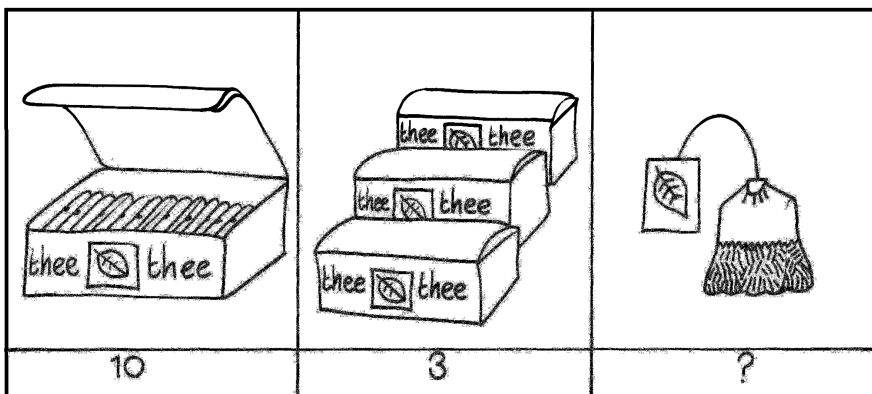
In de haven ligt een schip met 64 containers.  
Er komen nog 35 containers bij.  
Hoeveel containers staan er in totaal in het schip? ... containers

Som 6



In een leeg schip kunnen 75 containers. Er staan er nu 63 in.  
Hoeveel kunnen er nog bij? ... containers

### Som 7




In een doosje thee zitten 10 zakjes.

In de kast staan 3 doosjes.

Hoeveel theezakjes zijn er?

...zakjes x... doosjes =... theezakjes

### Som 8

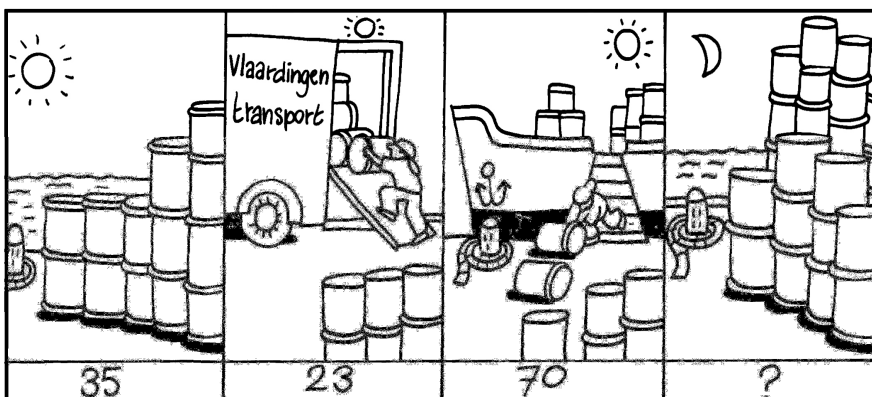


Een schroevendraaier kost €7. Mijn vader koopt 4 schroevendraaiers.

Hoeveel moet hij betalen?

€... x ... schroevendraaiers = €...

### Som 9




Op dinsdagmiddag staan er 35 tonnen. Een grote vrachtauto neemt er 23 mee

voor een bedrijf in Vlaardingen. Daarna worden er nog 70 uit een schip geladen.

Hoeveel tonnen staan er dinsdagavond op de kade?

... tonnen

### Som 10




d. Op donderdag om 10 uur staan er 14 tonnen. Vanuit een schip worden er 25 op de kade gezet. Om 2 uur 's middag komen er nog 25 bij.

De rest van de dag gebeurt er verder niets.

Hoeveel tonnen staan er 's avonds?

... tonnen

### Som 11



Carlo weegt 36 kilogram. Zijn broer weegt 45 kilogram.

Hoeveel wegen ze samen?

... kilogram

### Som 12




Een trui kostte eerst €75. Nu kost hij €34 euro minder.

Hoeveel moet ik betalen?

€...

Som 13




Marcel koopt 8 pakken met elk 3 koeken.

Hoeveel koeken koopt hij?

...pakken x ...koeken = ... koeken

Som 14

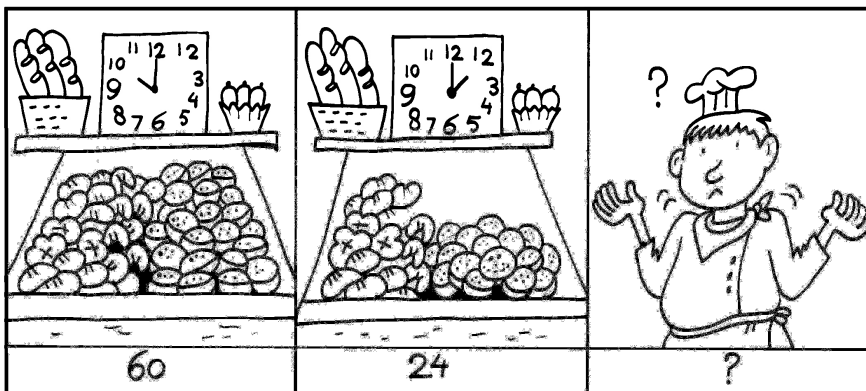


Mijn tante koopt 10 meter gordijnstof. Het kost per meter €6.

Hoeveel moet zij betalen?

...meter x €... = €...

Som 15




De bakker heeft 's morgens 60 krentenbollen gebakken.

's Middags liggen er nog 24. Hoeveel heeft hij er verkocht?

... krentenbollen

**Som 16**




In de metro naar het centraal station zitten 78 mensen.

Bij het volgende station stappen 16 mensen in en 8 mensen uit.

Hoeveel mensen zitten er in de metro?

... mensen

**Som 17**

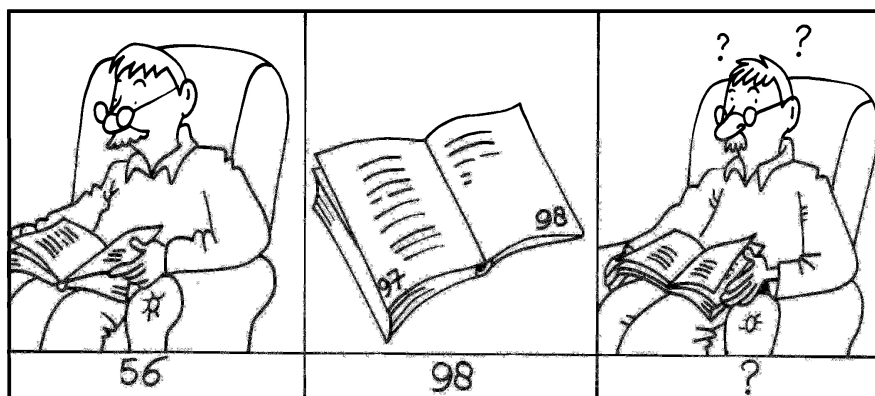


In de winkel staan 's morgens 87 flessen frisdrank.

Als de winkel sluit zijn er nog 15. Hoeveel zijn er verkocht?

... flessen

**Som 18**



Mijn vader heeft vanochtend 56 bladzijden gelezen.

Nu is hij op bladzijde 98.

Hoeveel bladzijden heeft hij gelezen?

... bladzijden