


Kwint 2 Werkschrift 2

Som 1




Mandy heeft 12 euro in haar spaarpot.

Ze krijgt van opa 6 euro erbij.

hoeveel euro heeft ze nu?

..... euro

Som 2




Marit heeft 20 knikkers.

ze verliest er 16.

hoeveel knikkers heeft ze over?

... knikkers

Som 3




er liggen 17 broodjes in de mand.

Joep en Koen eten er 9 op.

hoeveel zijn er over?

... broodjes


Som 4



in de fles zitten 11 snoepjes.
Maaïke eet er 5 op.
hoeveel zijn er over?

... snoepjes


Som 5



opa heeft nog 4 schroeven in zijn gereedschapskist.
hij koopt er 13 bij.
hoeveel schroeven heeft hij nu?

... schroeven


Som 6



op een ochtend leggen de kippen 4 eieren.
's middags leggen ze 15 eieren.
hoeveel eieren hebben de kippen op die dag gelegd?

... eieren

Som 7



Carin heeft 8 euro.

ze wil een spel kopen voor 17 euro.

hoeveel euro heeft ze te weinig?

... euro